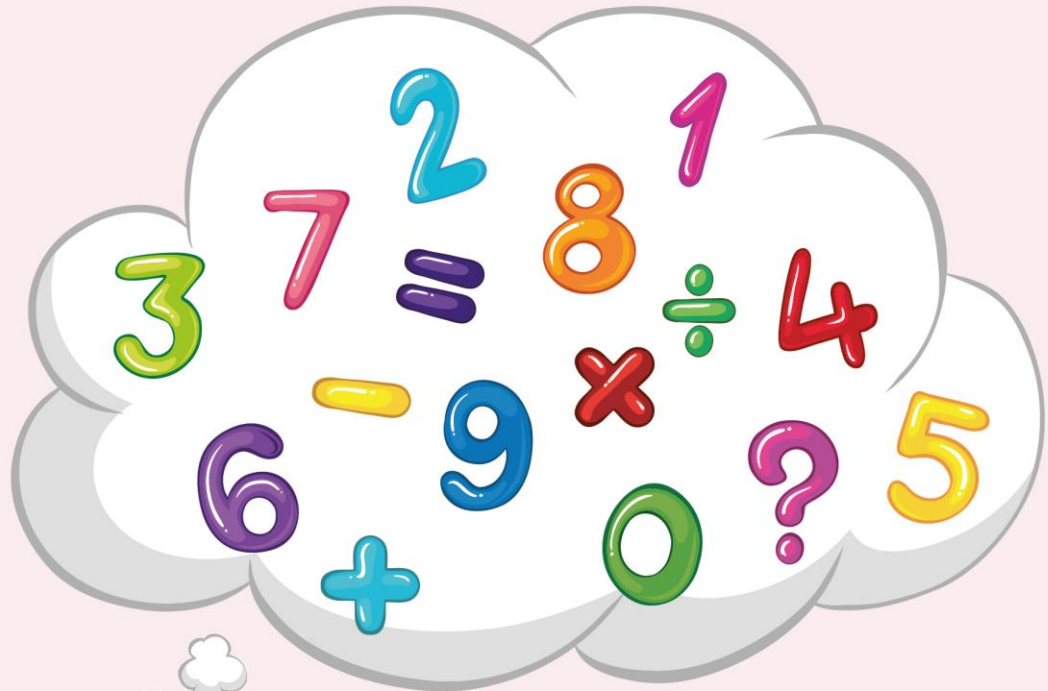


# ریاضی اول

دبستان


(نمونه سوالات حل شده)











## بخش ۱


۱) به تعداد هر شکل خانه‌ی روبه‌روی آن را رنگ کن.



پاسخ:



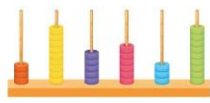


۲) الگوی منظم را پیدا کن و رنگ بزن.

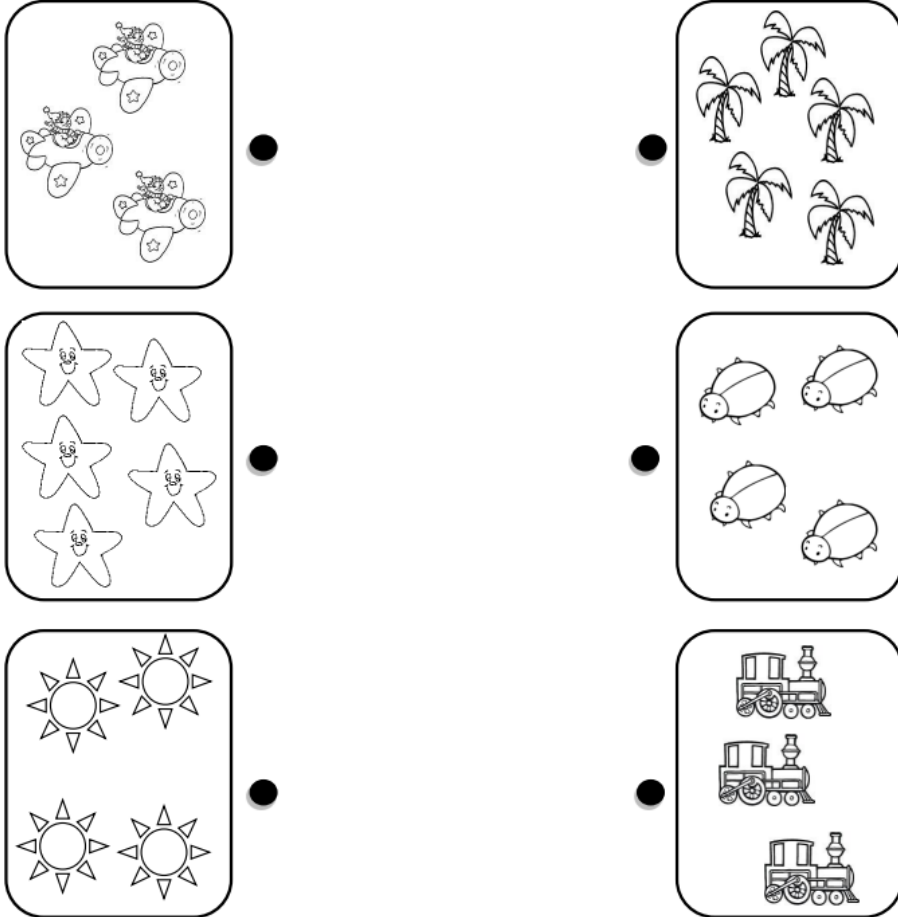


پاسخ:

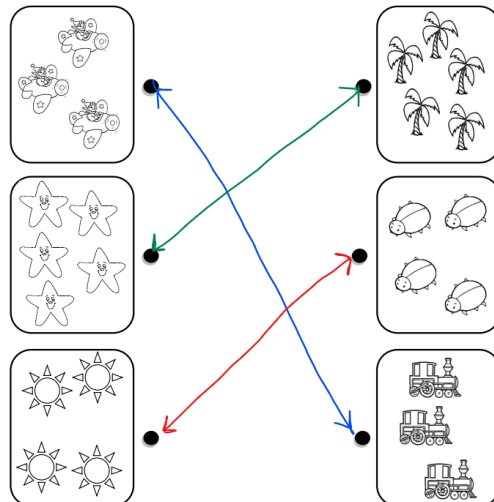


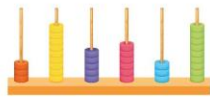


۳ دسته‌هایی را که تعداد شکل‌هایشان مثل هم است با خط به هم وصل کن.



پاسخ:


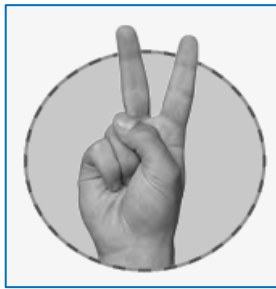




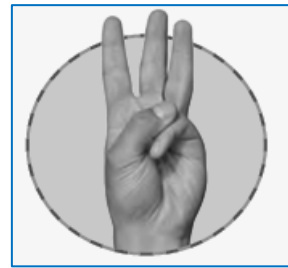

۴) با انگشتان دست خود عدد ۲ و عدد ۳ را نشان بده.

پاسخ:

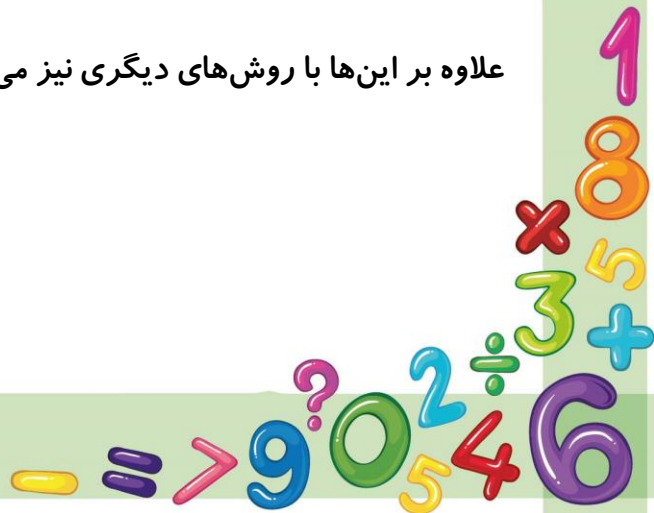
عدد ۲:



عدد ۳:



علاوه بر این‌ها با روش‌های دیگری نیز می‌توان این اعداد را نشان داد.





## بانک محتوای آموزشی SET

آسان و سریع مطالب مهم را مرور کنید و برای آزمون آماده شوید.

همین الان کلیک کن



### دوره‌های آموزشی

با دوره‌های آموزشی وارد مسیر یادگیری شوید و گام به گام خود را در کل درس راحت کنید.



### نمونه‌سوال‌ات حل شده

با نمونه سوال‌ات حل شده درس به درس، مثال‌های مهم را ببینید و مفاهیم را آسان درک کنید.



### خلاصه نکات

با خلاصه نکات درس به درس فقط به نکات مهم بپردازید و زمان را ذخیره کنید.



### ویدئو آموزشی

با ویدئوهای کوتاه درس به درس، مطالب درس را آسان و سریع یاد بگیرید.



[www.youtube.com/@saminskill](https://www.youtube.com/@saminskill)

[www.aparat.com/set\\_ir\\_official](https://www.aparat.com/set_ir_official)

[www.instagram.com/set.ir.shop](https://www.instagram.com/set.ir.shop)

[t.me/set\\_ir\\_levelup](https://t.me/set_ir_levelup)

[@set\\_ir\\_levelup](https://www.facebook.com/set_ir_levelup)

[@levelupset](https://www.facebook.com/levelupset)

۰۲۱۴۴۰۷۰۷۳۰

۰۹۰۲۷۱۴۳۴۰۲



اسکن کنید